

UNIVERSIDAD DE SAN CARLOS DE GUATEMALA

FACULTAD DE INGENIERÍA

DEPARTAMENTO DE MATEMÁTICA

CLAVE-107-2-M-2-00-2017



CURSO:	Matemática Intermedia 1
SEMESTRE:	Segundo
CÓDIGO DEL CURSO:	107
TIPO DE EXAMEN:	Segundo Parcial
FECHA DE EXAMEN:	Agosto del 2017
RESOLVIÓ EL EXAMEN:	Melvin Saúl Calel Otzoy
DIGITALIZÓ EL EXAMEN:	Melvin Saúl Calel Otzoy
COORDINADOR:	Ing. José Alfredo González Díaz

UNIVERSIDAD DE SAN CARLOS
FACULTAD DE INGENIERIA

ESCUELA DE CIENCIAS
DEPARTAMENTO DE MATEMATICA

MATEMATICA INTERMEDIA 1		SEGUNDO PARCIAL
<i>TEMARIO A</i>		
TEMA 1		(20 PUNTOS)
a) Determine si converge o diverge	$\int_0^{\pi} \frac{\text{sen } x \, dx}{(\cos x + 1)^{\frac{2}{5}}}$	
b) Halle un valor aproximado de	$\int_0^1 \text{sen } x^2 \, dx$ utilizando la regla de Simpson con $n=4$ (redondee a 3 cifras decimales).	
TEMA 2		(10 PUNTOS)
Una compuerta en un canal de irrigación tiene la forma de un trapecio de 3 pies de ancho en el fondo, 5 pies de ancho en la parte superior y 2 pies de alto. Está colocada verticalmente en el canal y el agua llega hasta un pie de su parte superior. Plantee la integral de la fuerza hidrostática sobre la compuerta. (densidad de peso del agua 62.5 lb/pie^3).		
TEMA 3		(9 PUNTOS)
Plantee las integrales necesarias para encontrar el centroide de la región limitada por las curvas $y = x^2$; $y = 3x$		
TEMA 4		(21 PUNTOS)
a) Determine si converge o diverge las siguientes series.		
i) $\sum_{n=1}^{\infty} \frac{(-1)^{n+1}(n+1)}{2^n}$	Por serie alternante.	ii) Por criterio de la integral $\sum_{n=1}^{\infty} \frac{\tan^{-1} n}{n^2 + 1}$
b) Encuentre la suma de $\sum_{n=1}^{\infty} \frac{2}{(n+1)(n+3)}$		
TEMA 5		(10 PUNTOS)
Escriba los dos siguientes términos de la sucesión, trace su gráfica. Escriba el n-ésimo término, determine si es monótona de que tipo, cotas, converge o diverge $\left\{ -\frac{2}{3}, \frac{4}{9}, -\frac{8}{27}, \dots \right\}$.		
TEMA 6		(30PUNTOS)
a) Represente $f(x) = \frac{1}{1+2x}$ por medio de una serie de potencias, partiendo de la serie de potencias de la geométrica. Después utilizando la integral de la serie encontrada, halle la serie de $g(x) = \ln(2x+1)$. (10 puntos)		
b) Encuentre la serie de Maclaurin de $f(x) = \cos x$ indicando todos los pasos. Utilizando la serie anterior y la derivada de series de potencias encuentre la serie de $g(x) = \text{sen } x$, luego la serie de $h(x) = \text{sen } x^2$ y halle $\int_0^1 \text{sen } x^2 \, dx$ como una serie, por último encuentre una suma parcial de 3 términos de la serie de la integral. (10 puntos)		
c) Halle el radio y el intervalo abierto de convergencia de la serie de potencias:		
$\sum_{n=0}^{\infty} \frac{(-1)^n (x-2)^{2n}}{9^n}$ (10 puntos.)		

SOLUCIÓN DEL EXAMEN

Tema No. 1: 20 puntos

a) Determine si converge o diverge $\int_0^{\pi} \frac{\sin x \, dx}{(\cos x + 1)^{2/5}}$

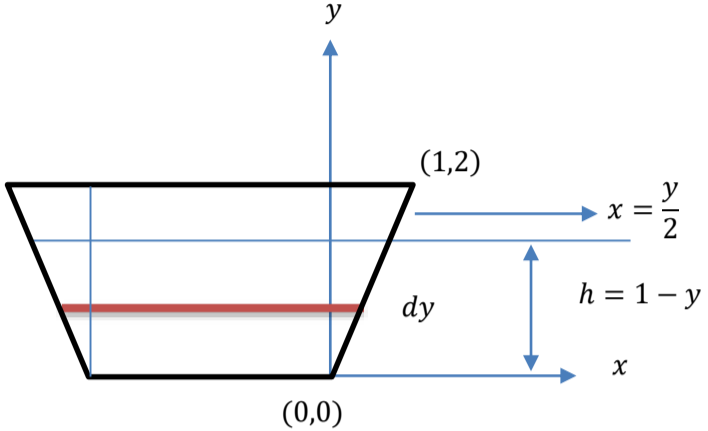
No.	Explicación	Operatoria
1.	Se plantea la integral como un límite ya que posee una discontinuidad en $x = \pi$, se realizan las sustituciones necesarias para determinar si la integral converge o diverge.	$\int_0^{\pi} \frac{\sin x}{(\cos x + 1)^{2/5}} dx = \lim_{b \rightarrow \pi^-} - \int_0^b \frac{-\sin x}{(\cos x + 1)^{2/5}} dx$ <p style="text-align: center;"><i>Sea:</i> $u = \cos x + 1 \quad du = -\sin x \, dx$</p> $= \lim_{b \rightarrow \pi^-} -\frac{5}{3} (\cos x + 1)^{3/5} \Big _0^b$ $= -\frac{5}{3} \lim_{b \rightarrow \pi^-} (\cos b + 1)^{3/5} + \frac{5}{3} (\cos 0 + 1)^{3/5}$ $= \frac{5}{3} \sqrt[5]{8}$ <p style="text-align: center;"><i>Converge</i></p>

b) Halle un valor aproximado de $\int_0^1 \sin x^2 \, dx$ utilizando la regla de Simpson con $n=4$ (redondee a 3 cifras decimales).

No.	Explicación	Operatoria																								
1.	Se muestran en una tabla los valores a utilizar para aplicar la regla de Simpson. <i>Sea:</i> $a = 0, b = 1, n = 4$ $\Delta x = \frac{b - a}{n} = \frac{1 - 0}{4} = \frac{1}{4}$	<table border="1" style="width: 100%; text-align: center;"> <thead> <tr> <th>n</th> <th>x</th> <th>x^2</th> <th>$\sin x^2$</th> </tr> </thead> <tbody> <tr> <td>0</td> <td>0</td> <td>0</td> <td>0</td> </tr> <tr> <td>1</td> <td>1/4</td> <td>1/16</td> <td>0.062</td> </tr> <tr> <td>2</td> <td>1/2</td> <td>1/4</td> <td>0.247</td> </tr> <tr> <td>3</td> <td>3/4</td> <td>9/16</td> <td>0.533</td> </tr> <tr> <td>4</td> <td>1</td> <td>1</td> <td>0.841</td> </tr> </tbody> </table>	n	x	x^2	$\sin x^2$	0	0	0	0	1	1/4	1/16	0.062	2	1/2	1/4	0.247	3	3/4	9/16	0.533	4	1	1	0.841
n	x	x^2	$\sin x^2$																							
0	0	0	0																							
1	1/4	1/16	0.062																							
2	1/2	1/4	0.247																							
3	3/4	9/16	0.533																							
4	1	1	0.841																							
2.	Se aplica la regla de Simpson para hallar el valor aproximado de la integral.	$\int_a^b f(x) dx \approx S_n$ $= \frac{\Delta x}{3} [f(x_0) + 4f(x_1) + 2f(x_2) + 4f(x_3) + f(x_4)]$ $S_n = \frac{1/4}{3} [0 + 4(0.062) + 2(0.247) + 4(0.533) + 0.841]$ $\int_0^1 \sin x^2 dx \approx S_n = 0.310$																								

Tema No. 2: 10 puntos

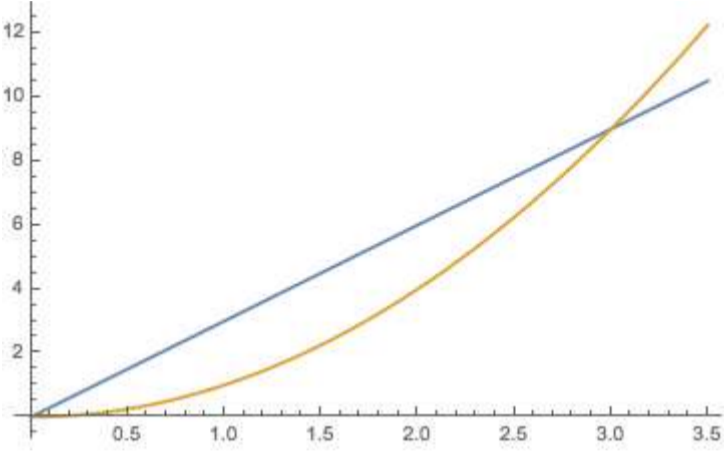
Una compuerta en un canal de irrigación tiene la forma de un trapecio de 3 pies de ancho en el fondo, 5 pies de ancho en la parte superior y 2 pies de alto. Está colocada verticalmente en el canal y el agua llega hasta un pie de su parte superior. Plantee la integral de la fuerza hidrostática sobre la compuerta. (densidad de peso del agua 62.5 lb/pie³).

No.	Explicación	Operatoria
1.	Se realiza un esquema de la compuerta, con la información proporcionada.	
2.	Se plantea la ecuación de la de uno de los lados de la compuerta, en el primer cuadrante.	<p>Sea $\rightarrow (y - y_0) = m(x - x_0)$</p> <p>Encontrando m:</p> $(x_1, y_1) = (1, 2)$ $(x_0, y_0) = (0, 0)$ $m = \frac{y_1 - y_0}{x_1 - x_0} = \frac{2 - 0}{1 - 0} = 2$ <p>Para $\rightarrow P(0,0)$</p> $(y - 0) = 2(x - 0)$ $x = \frac{y}{2}$
3.	Se analiza la parte central de la compuerta de forma rectangular y seradamente la parte triangular de la compuerta para hallar la fuerza hidrostática total	$F = \rho g \int_a^b h(y) * x(y) dy$ <p>Parte Rectangular:</p> $F_1 = 62.5 \int_0^1 (1 - y) * 3 dy$ <p>Parte Triangular:</p> $F_2 = 2 * 62.5 \int_0^1 (1 - y) * \frac{y}{2} dy$ $F_T = 62.5 \int_0^1 (1 - y) * 3 dy + 2 * 62.5 \int_0^1 (1 - y) * \frac{y}{2} dy$

Tema No. 3: 9 puntos

Plantee las integrales necesarias para encontrar el centroide de la región limitada por las curvas

$$y = x^2 \quad ; \quad y = 3x$$

No.	Explicación	Operatoria
1.	Se grafican las curvas en un plano, se encuentran los puntos de intersección.	<p style="text-align: center;"><i>Gráfica:</i></p>  <p style="text-align: center;"><i>Puntos de Intersección:</i></p> $x^2 = 3x$ $x = 0, \quad x = 3$
2.	<p>Se aplican las definiciones para el centroide de masa para plantear las integrales necesarias.</p> $\bar{x} = \frac{1}{A} \int_a^b x[f(x) - g(x)]dx$ $\bar{y} = \frac{1}{A} \int_a^b \frac{1}{2} \{ [f(x)]^2 - [g(x)]^2 \} dx$	$A = \int_a^b [f(x) - g(x)]dx$ $a = 0, \quad b = 3$ <p style="text-align: center;"><i>Área entre curvas:</i></p> $A = \int_0^3 (3x - x^2) dx$ <p style="text-align: center;"><i>Centroide \bar{x}</i></p> $\bar{x} = \frac{\int_0^3 x(3x - x^2) dx}{\int_0^3 (3x - x^2) dx}$ <p style="text-align: center;"><i>Centroide \bar{y}</i></p> $\bar{y} = \frac{\frac{1}{2} \int_0^3 (3x + x^2)(3x - x^2) dx}{\int_0^3 (3x - x^2) dx}$

Tema No. 4: 21 puntos

a) Determine si converge o diverge las siguientes series.

i)
$$\sum_{n=1}^{\infty} \frac{(-1)^{n+1}(n+1)}{2^n}$$
 Por serie alternante.

No.	Explicación	Operatoria
1.	<p>Se comprueba para la serie dada los criterios para la convergencia de la serie alternante.</p> $b_{n+1} \leq b_n$ $\lim_{n \rightarrow \infty} b_n = 0$	$b_{n+1} \leq b_n$ $\frac{n+2}{2^{n+1}} \leq \frac{n+1}{2^n}$ $n+2 \leq 2(n+1)$ $n+2 \leq 2n+1$ $0 \leq n$ $\lim_{n \rightarrow \infty} b_n = 0$ $\lim_{n \rightarrow \infty} \frac{n+1}{2^n} = \lim_{n \rightarrow \infty} \frac{1}{2^n \ln 2}$ $\lim_{n \rightarrow \infty} \frac{1}{\infty} = 0$ <p><i>La Serie Converge</i></p>

ii) Por criterio de la integral
$$\sum_{n=1}^{\infty} \frac{\tan^{-1} n}{n^2 + 1}$$

No.	Explicación	Operatoria
1.	<p>Se comprueba para la serie dada el criterio de la integral.</p> $a_n = f(n) \rightarrow f(x)$ <p>Si $\int_1^{\infty} f(x) dx$ es convergente,</p> $\sum_{n=1}^{\infty} a_n$ es convergente	$a_n = \frac{\tan^{-1} n}{n^2 + 1}$ $f(x) = \frac{\tan^{-1} x}{x^2 + 1}$ $\int_1^{\infty} \frac{\tan^{-1} x}{x^2 + 1} dx = \lim_{b \rightarrow \infty} \int_1^b \frac{\tan^{-1} x}{x^2 + 1} dx$ $\text{Sea } u = \tan^{-1} x \quad du = \frac{1}{x^2 + 1} dx$ $= \lim_{b \rightarrow \infty} \frac{(\tan^{-1} x)^2}{2} \Big _1^b$ $= \lim_{b \rightarrow \infty} \frac{(\tan^{-1} b)^2}{2} - \lim_{b \rightarrow \infty} \frac{(\tan^{-1} 1)^2}{2}$ $= \frac{(\pi/2)^2}{2} - \frac{(\pi/4)^2}{2}$ $= \frac{3\pi^2}{32}$ <p><i>La serie converge</i></p>

b) Encuentre la suma de
$$\sum_{n=1}^{\infty} \frac{2}{(n+1)(n+3)}$$

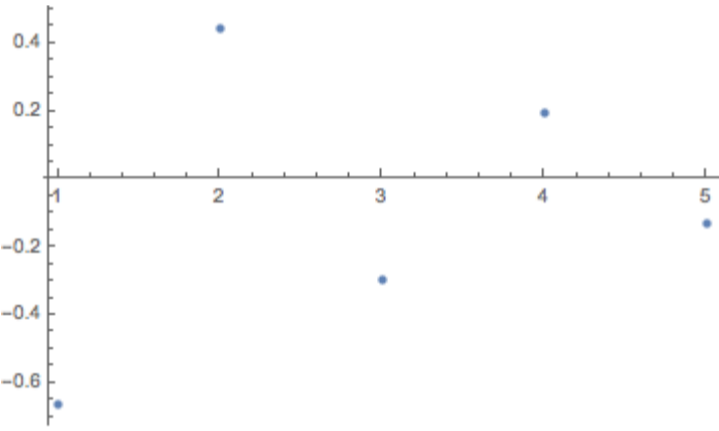
No.	Explicación	Operatoria
1.	Se separa la sumatoria en fracciones parciales para hallar la suma de la serie telescópica.	$\frac{2}{(n+1)(n+3)} = \frac{A}{n+1} + \frac{B}{n+3}$ $2 = A(n+3) + B(n+1)$ $A = 1$ $B = -1$
2.	Se encuentra la suma de la serie telescópica.	$\sum_{n=1}^{\infty} \frac{1}{n+1} - \frac{1}{n+3} = \left(\frac{1}{2} - \frac{1}{4}\right) + \left(\frac{1}{3} - \frac{1}{5}\right) + \left(\frac{1}{4} - \frac{1}{6}\right)$ $+ \left(\frac{1}{5} - \frac{1}{7}\right) + \left(\frac{1}{6} - \frac{1}{8}\right)$ $= \frac{1}{2} + \frac{1}{3} + \lim_{n \rightarrow \infty} \frac{-1}{n+2} + \lim_{n \rightarrow \infty} \frac{-1}{n+3}$ $= \frac{5}{6}$ <p style="text-align: center;"><i>La serie converge</i></p>

Tema No. 5: 10 puntos

Escriba los dos siguientes términos de la sucesión, trace su gráfica. Escriba el n-ésimo término,

$$\left\{ -\frac{2}{3}, \frac{4}{9}, -\frac{8}{27}, \dots \right\}$$

determine si es monótona de que tipo, cotas, converge o diverge

No.	Explicación	Operatoria
1.	Se encuentra el término a_n de la sucesión para trazar su gráfica, encontrar los dos siguientes términos de la sucesión determinar sus cotas, monotomía y su convergencia.	$a_n = (-1)^n \left(\frac{2}{3}\right)^n = \left(-\frac{2}{3}\right)^n$ <p><i>Términos de la sucesión:</i></p> $a_1 = -\frac{2}{3} \quad a_2 = \frac{4}{9} \quad a_3 = -\frac{8}{27} \quad a_4 = \frac{16}{81} \quad a_5 = -\frac{32}{243}$ <p><i>Gráfica:</i></p>  <p><i>Cotas:</i></p> $\text{Cota inferior} \rightarrow \frac{4}{9}$ $\text{Cota superior} \rightarrow -\frac{2}{3}$ <p><i>Monotomía:</i></p> $a_1 < a_2 > a_3$ <p><i>No es monótoma</i></p> <p><i>Convergencia:</i></p> $\lim_{n \rightarrow \infty} \left(-\frac{2}{3}\right)^n = 0$ <p><i>La sucesión converge</i></p>

Tema No. 6: 10 puntos

- a) Represente $f(x) = \frac{1}{1+2x}$ por medio de una serie de potencias, partiendo de la serie de potencias de la geométrica. Después utilizando la integral de la serie encontrada, halle la serie de $g(x) = \ln(2x+1)$.

No.	Explicación	Operatoria
1.	Se manipula la expresión mostrada para llegar a la serie de potencias de $f(x) = \frac{1}{1+2x}$	$f(x) = \frac{1}{1+x} = \sum_{n=0}^{\infty} (-x)^n = \sum_{n=0}^{\infty} (-1)^n x^n$ $\frac{1}{1+2x} = \sum_{n=0}^{\infty} (-1)^n (2x)^n = \sum_{n=0}^{\infty} (-2)^n x^n$
2.	Se sabe que: $\int \frac{1}{1+2x} = \frac{1}{2} \ln 1+2x + C$ Se integra la serie de potencias de $f(x) = \frac{1}{1+2x}$ para encontrar la serie de potencias de $g(x) = \ln 2x+1 $	$\int \sum_{n=0}^{\infty} (-2)^n x^n = \sum_{n=0}^{\infty} \frac{(-2)^n x^{n+1}}{n+1} + C$ $\frac{1}{2} \ln 1+2x = \sum_{n=0}^{\infty} \frac{(-2)^n x^{n+1}}{n+1} + C$ <p style="text-align: center;">Cuando $x = 0$</p> $\frac{1}{2} \ln 1 = 0 + C \rightarrow C = 0$ $g(x) = \ln 1+2x = \sum_{n=0}^{\infty} \frac{(-1)^n (2)^{n+1} x^{n+1}}{n+1}$

- b) Encuentre la serie de Maclaurin de $f(x) = \cos x$ indicando todos los pasos. Utilizando la serie anterior y la derivada de series de potencias encuentre la serie de $g(x) = \sin x$, luego la serie

de $h(x) = \sin x^2$ y halle $\int_0^1 \sin x^2 dx$ como una serie, por último encuentre una suma parcial de 3 términos de la serie de la integral.

No.	Explicación	Operatoria
1.	Se encuentran las derivadas de la función $f(x) = \cos x$, se evalúan en $a = 0$ para hallar la serie de Maclaurin de la misma.	$f(x) = \cos x \quad f(0) = 1$ $f'(x) = -\sin x \quad f'(0) = 0$ $f''(x) = -\cos x \quad f''(0) = -1$ $f'''(x) = \sin x \quad f'''(0) = 0$ $f^{iv}(x) = \cos x \quad f^{iv}(0) = 1$ $\cos x = 1 - \frac{x^2}{2!} + \frac{x^4}{4!} + \dots = \sum_{n=0}^{\infty} \frac{(-1)^n}{(2n)!} x^{2n}$

<p>2.</p>	<p>Se realizan los arreglos algebraicos a la expresión encontrada para encontrar la serie de potencias de $h(x) = \sin x^2$</p>	$\frac{d}{dx}(\cos x) = -\sin x$ $\sin x = -\frac{d}{dx} \left(\sum_{n=0}^{\infty} \frac{(-1)^n}{(2n)!} x^{2n} \right)$ $\sin x = -\sum_{n=1}^{\infty} \frac{(-1)^n * 2n * x^{2n-1}}{(2n)!}$ $\sin x = \sum_{n=1}^{\infty} \frac{(-1)^{n+1} * x^{2n-1}}{(2n-1)!}$ $\sin x = \sum_{n=0}^{\infty} \frac{(-1)^n * x^{2n+1}}{(2n+1)!}$ $\sin x^2 = \sum_{n=0}^{\infty} \frac{(-1)^n * x^{4n+2}}{(2n+1)!}$ $\int_0^1 \sin x^2 dx = \int_0^1 \sum_{n=0}^{\infty} \frac{(-1)^n * x^{4n+1}}{(2n+1)!} dx$ $\int_0^1 \sin x^2 dx = \frac{(-1)^n * x^{4n+3}}{(4n+3)(2n+1)!} \Big _0^1$ $\int_0^1 \sin x^2 dx = \sum_{n=0}^{\infty} \frac{(-1)^n}{(4n+3)(2n+1)!}$
<p>3.</p>	<p>Se encuentra la suma de los primeros tres términos de:</p> $\int_0^1 \sin x^2 dx = \sum_{n=0}^{\infty} \frac{(-1)^n}{(4n+3)(2n+1)!}$	$\int_0^1 \sin x^2 dx \approx \frac{1}{3} - \frac{1}{42} + \frac{1}{1320}$ $\int_0^1 \sin x^2 dx \approx 0.3103$

c) Halle el radio y el intervalo abierto de convergencia de la serie de potencias:

$$\sum_{n=0}^{\infty} \frac{(-1)^n (x - 2)^{2n}}{9^n}$$

No.	Explicación	Operatoria
1.	<p>Se aplica el criterio de la razón a la serie de potencias para hallar el radio y el intervalo abierto de convergencia de la misma.</p> <p><i>Converge si:</i></p> $\lim_{n \rightarrow \infty} \left \frac{a_{n+1}}{a_n} \right $	<p><i>Para</i> $\rightarrow a_n = \frac{(-1)^n (x - 2)^{2n}}{9^n}$</p> $\lim_{n \rightarrow \infty} \left \frac{a_{n+1}}{a_n} \right = \lim_{n \rightarrow \infty} \left \frac{\frac{(-1)^{n+1} (x-2)^{2n+2}}{9^{n+1}}}{\frac{(-1)^n (x-2)^{2n}}{9^n}} \right $ $= \lim_{n \rightarrow \infty} \left \frac{(-1)(x - 2)^2}{9} \right $ <p><i>Converge si:</i></p> $ (x - 2)^2 < 9$ $-3 < x - 2 < 3$ <p><i>radio</i> $\rightarrow R = 3$</p> <p><i>Intervalo de convergencia</i> $\rightarrow -1 < x < 5$</p>