

UNIVERSIDAD DE SAN CARLOS DE GUATEMALA

FACULTAD DE INGENIERÍA

DEPARTAMENTO DE MATEMÁTICA

CLAVE-103-1-M-2-00-2017



CURSO:	Matemática Básica 2
SEMESTRE:	Segundo
CÓDIGO DEL CURSO:	103
TIPO DE EXAMEN:	Primer examen parcial
FECHA DE EXAMEN:	16 de agosto del 2017
RESOLVIÓ EL EXAMEN:	Kevin Pinto
DIGITALIZÓ EL EXAMEN:	Kevin Pinto
REVISÓ EL EXAMEN:	Dra. Mayra Castillo
COORDINADOR:	Ing. José Alfredo González Díaz

Primer examen parcial

Temario A

Tema 1: (20 puntos)

Utilizando operaciones algebraicas y las leyes de los límites calcule

a. $\lim_{x \rightarrow -1} \frac{x^2 - 5x - 6}{x^2 + 4x + |x - 2|}$ b. $\lim_{x \rightarrow +\infty} (\sqrt{9x^2 + 2x} - 3x)$

Tema 2: (15 puntos)

Si $f(x) = \text{sen } x$, calcule $f'\left(\frac{\pi}{2}\right)$ utilizando la definición de derivada como un límite.

Tema 3: (15 puntos)

Determine todos los valores de la constante a , tales que la función sea continua en todos los reales.

$$f(x) = \begin{cases} ax^2 - 2 & \text{si } x \leq 0 \\ \frac{ax}{\tan x} & \text{si } x > 0 \end{cases}$$

Tema 4: (30 puntos)

a. Usando las reglas de derivación encuentre la primera derivada

$$f(t) = (2\text{sen}^3 t)(3t - 1)^2$$

b. Utilizando reglas de derivación calcule la segunda derivada

$$f(x) = \tan(x^2)$$

c. Calcule $f'(13)$ si $h(x) = f(g(x) + x^2)$ y $g'(3) = 4$, $h'(3) = 2$, $g(3) = 4$

Tema 5: (20 puntos)

a. La curva $y = \frac{1}{1 + x^2}$ se llama curva de María Agnesi. Encuentre la ecuación de la recta tangente en el punto donde $x = -1$.

b. Trace una gráfica de la función f que cumpla con las condiciones siguientes
 $f(0) = 1$, $f(4) = 0$, $f(6) = 0$, $\lim_{x \rightarrow 3^-} f(x) = 2$, $\lim_{x \rightarrow 3^+} f(x) = +\infty$, $\lim_{x \rightarrow -\infty} f(x) = 0$
 $\lim_{x \rightarrow +\infty} f(x) = 2$

TEMA 1 (20 Pts)

a. Calcule la integral indefinida:

$$\lim_{x \rightarrow -1} \frac{x^2 - 5x - 6}{x^2 + 4x + |x - 2|}$$

SOLUCIÓN:

Explicación	Operatoria
Evaluamos la función y verificamos que la forma sea indeterminada.	$\lim_{x \rightarrow -1} \frac{x^2 - 5x - 6}{x^2 + 4x + x - 2 }$ $\frac{(-1)^2 - 5(-1) - 6}{(-1)^2 + 4(-1) + (-1) - 2 } = \frac{0}{0}$
Primero procederemos a eliminar el valor absoluto de la fracción, para ello necesitamos aplicar su concepto y separarlo en dos funciones.	$ x - 2 = \begin{cases} -(x - 2) & \text{si } x \leq 2 \\ x - 2 & \text{si } x \geq 2 \end{cases}$
En nuestro caso el límite de x tiende al valor de -1. En razón de ello, trabajamos el valor absoluto como la parte de la función que incluye dicho dominio.	$ x - 2 = -(x - 2) \text{ si } x \leq 2$ $\lim_{x \rightarrow -1} \frac{x^2 - 5x - 6}{x^2 + 4x + x - 2 }$ $\lim_{x \rightarrow -1} \frac{x^2 - 5x - 6}{x^2 + 4x - (x - 2)}$
A continuación, realizaremos la manipulación algebraica para resolver el límite.	$\lim_{x \rightarrow -1} \frac{x^2 - 5x - 6}{x^2 + 4x - (x - 2)}$ $\lim_{x \rightarrow -1} \frac{x^2 - 5x - 6}{x^2 + 3x + 2} = \lim_{x \rightarrow -1} \frac{(x + 1)(x - 6)}{(x + 2)(x + 1)}$

Una vez realizada la operatoria algebraica, eliminaremos los términos semejantes y procederemos a evaluar el límite.	$\int \frac{du}{u^2 + 1} = \tan^{-1}(u) + c$
Finalmente regresamos a la variable original .	$\tan^{-1}(u) + c = \tan^{-1}(x - 2) + c$

R// $\tan^{-1}(x - 2) + c$

b. Calcule el límite

$$\lim_{x \rightarrow +\infty} (\sqrt{9x^2 + 2x} - 3x)$$

SOLUCIÓN:

Explicación	Operatoria
Evaluamos el límite y verificamos que la forma sea indeterminada.	$\lim_{x \rightarrow \infty} \sqrt{9x^2 + 2x} - 3x$ $\sqrt{9(\infty)^2 + 2(\infty)} - 3(\infty) = \infty - \infty$ <p style="text-align: center; color: blue;"><i>Indeterminado</i></p>
Una vez verificada la indeterminación, procedemos a manipular de manera algebraica el límite. Por lo tanto, primero multiplicaremos por el conjugado para eliminar la raíz.	$\lim_{x \rightarrow \infty} (\sqrt{9x^2 + 2x} - 3x) * \frac{\sqrt{9x^2 + 2x} + 3x}{\sqrt{9x^2 + 2x} + 3x}$ $\lim_{x \rightarrow \infty} \frac{9x^2 + 2x - 9x^2}{\sqrt{9x^2 + 2x} + 3x}$
Ahora procedemos a simplificar el límite.	$\lim_{x \rightarrow \infty} \frac{9x^2 + 2x - 9x^2}{\sqrt{9x^2 + 2x} + 3x}$ $\lim_{x \rightarrow \infty} \frac{2x}{\sqrt{9x^2 + 2x} + 3x}$

<p>Seguidamente dividiremos entre x toda la expresión para poder evaluar el límite.</p> <p>Nota: <i>Dividimos solo dentro de x porque el límite tiende a infinito positivo, si este tendiese a infinito negativo deberemos dividir dentro de $-x$</i></p>	$\lim_{x \rightarrow \infty} \frac{2x}{\sqrt{9x^2 + 2x} + 3x} * \frac{1/x}{1/x}$ $\lim_{x \rightarrow \infty} \frac{\frac{2x}{x}}{\frac{\sqrt{9x^2 + 2x}}{x} + \frac{3x}{x}}$
<p>Para operar las equis del radical debemos ingresar la "x" como su función equivalente es decir "x^2".</p> <p>Por ejemplo:</p> $5 = \sqrt{5^2} = \sqrt{25}$	$\lim_{x \rightarrow \infty} \frac{\frac{2x}{x}}{\sqrt{\frac{9x^2}{x^2} + \frac{2x}{x^2}} + \frac{3x}{x}}$
<p>A continuación, se simplificará la expresión y luego se evaluará el límite al infinito.</p> <p>Recordando que: Un número dividido infinito es equivalente a cero.</p>	$\lim_{x \rightarrow \infty} \frac{2}{\sqrt{9 + \frac{2}{x}} + 3}$ $\frac{2}{\sqrt{9 + \frac{2}{\infty}} + 3} = \frac{2}{\sqrt{9 + 0} + 3} = \frac{2}{3 + 3} = \frac{1}{3}$

R// El límite tiende a 1/3

TEMA 2 (15 Pts)

Si $f(x) = \text{sen } x$, calcule $f'\left(\frac{\pi}{2}\right)$ utilizando la definición de derivada como un límite.

SOLUCIÓN:

Explicación	Operatoria
Recordamos la derivada por definición:	$\lim_{h \rightarrow 0} \frac{f(x+h) - f(x)}{h}$
Con el fin de simplificar la operatoria, primero calcularemos la derivada y luego procederemos a evaluarla en pi medios.	$\lim_{h \rightarrow 0} \frac{\text{sen}(x+h) - \text{sen}(x)}{h}$ $\lim_{h \rightarrow 0} \frac{\text{sen}(x)\cos(h) + \text{sen}(h)\cos(x) - \text{sen}(x)}{h}$ $\lim_{h \rightarrow 0} \frac{\text{sen}(x)(\cos(h) - 1) + \text{sen}(h)\cos(x)}{h}$ $\lim_{h \rightarrow 0} \frac{\text{sen}(x)(\cos(h) - 1)}{h} + \lim_{h \rightarrow 0} \frac{\text{sen}(h)\cos(x)}{h}$
Por definición tenemos que: $\lim_{x \rightarrow 0} \frac{\cos(x) - 1}{x} = 0$ $\lim_{x \rightarrow 0} \frac{\text{sen } x}{x} = 1$	$\text{sen}(x) * \lim_{h \rightarrow 0} \frac{(\cos(h) - 1)}{h} + \cos(x) * \lim_{h \rightarrow 0} \frac{\text{sen}(h)}{h}$ $\text{sen}(x) * 0 + \cos(x) * 1$ $\cos(x)$
Finalmente evaluamos la derivada en pi medios	$f'(x) = \cos(x)$ $f'\left(\frac{\pi}{2}\right) = \cos\left(\frac{\pi}{2}\right)$ $f'\left(\frac{\pi}{2}\right) = 0$

R// $f'\left(\frac{\pi}{2}\right) = 0$

TEMA 3 (15 Pts)

Determine todos los valores de la constante a , tales que la función sea continua en todos los reales.

$$f(x) = \begin{cases} ax^2 - 2 & \text{si } x \leq 0 \\ \frac{ax}{\tan x} & \text{si } x > 0 \end{cases}$$

SOLUCIÓN:

Explicación	Operatoria
<p>Para que una función sea continua en todos los reales, el límite por la derecha debe ser igual a límite por la izquierda.</p>	$\lim_{x \rightarrow 0^-} f(x) = \lim_{x \rightarrow 0^+} f(x)$
<p>Teniendo presente la definición de límite, procedemos a plantear los límites para que exista continuidad</p>	$\lim_{x \rightarrow 0^-} ax^2 - 2 = \lim_{x \rightarrow 0^+} \frac{ax}{\tan x}$
<p>A continuación, resolveremos el izquierdo límite.</p>	$\lim_{x \rightarrow 0^-} ax^2 - 2 = a(0) - 2 = -2$
<p>Y ahora resolveremos el límite derecho, para el cual recordaremos la identidad.</p> $\lim_{x \rightarrow 0} \frac{\text{sen } x}{x} = 1$	$\lim_{x \rightarrow 0^+} \frac{ax}{\tan x}$ $\lim_{x \rightarrow 0^+} \frac{\frac{ax}{1}}{\frac{\text{sen } x}{\text{cos } x}}$ $\lim_{x \rightarrow 0^+} \frac{ax * \text{cos } x}{\text{sen } x}$ $\lim_{x \rightarrow 0^+} a \text{cos } x * \lim_{x \rightarrow 0^+} \frac{x}{\text{sen } x}$ $a \text{cos}(0) * \lim_{x \rightarrow 0^+} \left(\frac{\text{sen } x}{x}\right)^{-1}$

	$a * \left(\lim_{x \rightarrow 0^+} \frac{\text{sen}x}{x} \right)^{-1}$ $a * (1)$
<p>Una vez resueltos los límites, es necesario igualarlos para determinar el valor de "a" que permita que la función sea continua.</p>	$\lim_{x \rightarrow 0^-} f(x) = \lim_{x \rightarrow 0^+} f(x)$ $\lim_{x \rightarrow 0^-} ax^2 - 2 = \lim_{x \rightarrow 0^+} \frac{ax}{\tan x}$ $-2 = a$

R// El valor de a debe ser igual a -2 para que la función sea continua en todos los reales.

TEMA 4 (30 Pts)

a. Usando las reglas de derivación encuentre la primera derivada

$$f(t) = (2\text{sen}^3 t)(3t - 1)^2$$

SOLUCIÓN:

Explicación	Operatoria
Empezaremos indicando las derivadas que debemos calcular de manera individual, con el fin de clarificar el procedimiento.	$\frac{d}{dt} ((2\text{sen}^3 t)(3t - 1)^2)$
Primero plantearemos la derivada del producto.	$\frac{d}{dx} ((2\text{sen}^3 t)(3t - 1)^2)$ $(3t - 1)^2 * \frac{d}{dx} (2\text{sen}^3 t) + (2\text{sen}^3 t) * \frac{d}{dx} (3t - 1)^2$

<p>Calcularemos la derivada de la primera función aplicando las siguientes reglas:</p> <ul style="list-style-type: none"> • Extraemos la constante de la derivada • Derivamos por regla de la cadena • Derivamos el argumento 	$2 \frac{d}{dt} (\text{sen}^3 t)$ $2(3 * (\text{sen} t)^{3-1}) \frac{d}{dt} (\text{sen} t)$ $6 * (\text{sen} t)^2 * \text{cost}$
<p>Calcularemos la derivada de la segunda función aplicando las siguientes reglas:</p> <ul style="list-style-type: none"> • Derivamos por regla de la cadena • Derivamos el argumento 	$\frac{d}{dt} (3t - 1)^2$ $(2 * (3t - 1)^{2-1}) \frac{d}{dt} (3t - 1)$ $2 * (3t - 1) * 3$
<p>Ahora se sustituyeron las derivadas antes calculadas.</p>	$(3t - 1)^2 * \frac{d}{dx} (2\text{sen}^3 t) + (2\text{sen}^3 t) * \frac{d}{dx} (3t - 1)^2$ $(3t - 1)^2 * 6 * (\text{sen} t)^2 * \text{cost} + (2\text{sen}^3 t) * 6 * (3t - 1)$

$$\frac{d}{dt} ((2\text{sen}^3 t)(3t - 1)^2) = (3t - 1)^2 * 6 * (\text{sen} t)^2 * \text{cost} + (2\text{sen}^3 t) * 6 * (3t - 1)$$

b. Utilizando reglas de derivación calcule la segunda derivada

$$f(x) = \tan(x^2)$$

SOLUCIÓN:

Explicación	Operatoria
<p>Calcularemos la primera derivada de la función aplicando las siguientes reglas:</p> <ul style="list-style-type: none"> • Derivamos por regla de la cadena • Derivamos el argumento 	$\frac{d}{dx} \tan(x^2)$ $\sec^2(x^2) \frac{d}{dx} (x^2)$ $\sec^2(x^2) * 2x$

$$\frac{d}{dx} \tan(x^2) = 2x * \sec^2(x^2)$$

c. Calcule $f'(13)$ si $h(x) = f(g(x) + x^2)$ y $g'(3) = 4$, $h'(3) = 2$, $g(3) = 4$

<p>Calcularemos la primera derivada de la función aplicando las siguientes reglas:</p> <ul style="list-style-type: none"> • La parte de la izquierda, se indicará que la función fue derivada • La parte de la derecha primero se derivó por regla de la cadena • Derivamos el argumento de la función "f". 	$\frac{d}{dx} [h(x) = f(g(x) + x^2)]$ $\frac{d}{dx} [h(x)] = h'(x)$ $\frac{d}{dx} [f(g(x) + x^2)]$ $= f'(g(x) + x^2) * \frac{d}{dx} [g(x) + x^2]$ $f'(g(x) + x^2) * (g'(x) + 2x)$
<p>Una vez derivadas ambas partes procedemos a igualarlas.</p>	$h'(x) = f'(g(x) + x^2) * (g'(x) + 2x)$
<p>El problema nos solicita calcular $f'(13)$, sin embargo, los datos que nos proporciona son evaluados en $x=3$:</p> <ul style="list-style-type: none"> • $g'(3) = 4$ • $h'(3) = 2$ • $g(3) = 4$ <p>A razón de ello, evaluaremos la función y las derivadas en $x=3$.</p>	$h'(x) = f'(g(x) + x^2) * (g'(x) + 2x)$ <p style="text-align: center;">sí $x=3$</p> $h'(3) = f'(g(3) + 3^2) * (g'(3) + 2(3))$ $2 = f'(4 + 3^2) * (4 + 2(3))$ $2 = f'(13) * (10)$ $f'(13) = \frac{2}{10} = \frac{1}{5}$

$$R// f'(13) = \frac{1}{5}$$

TEMA 5 (20 Pts)

- a. La curva $y = \frac{1}{1+x^2}$ se llama curva de María Agnesi. Encuentre la ecuación de la recta tangente en el punto donde $x = -1$.

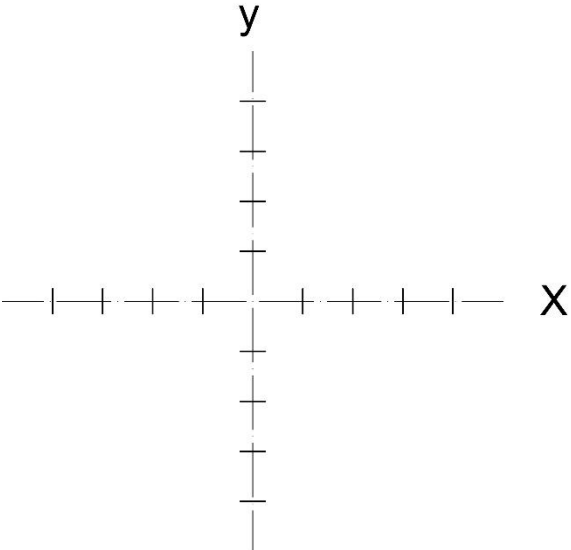
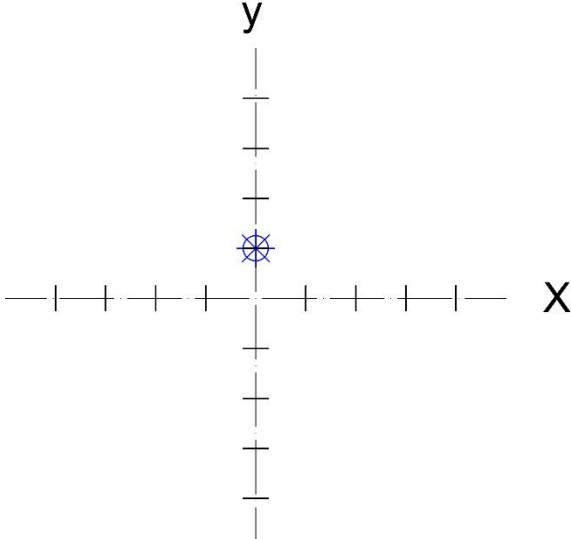
SOLUCIÓN:

Explicación	Operatoria
<p>Primero evaluaremos la función en el valor de $x=-1$, con el fin de determinar el punto de tangencia.</p>	$x = -1$ $y(-1) = \frac{1}{1+x^2} = \frac{1}{1+(-1)^2} = \frac{1}{2}$ $\left(-1, \frac{1}{2}\right)$
<p>Determinamos la pendiente, derivando la función y evaluándola en el punto de tangencia, $x=-1$.</p>	$y(x) = \frac{1}{1+x^2}$ $y'(x) = \frac{-2x}{(1+x^2)^2}$ $y'(-1) = \frac{-2(-1)}{(1+(-1)^2)^2} = \frac{1}{2}$
<p>Finalmente calculamos la ecuación de la recta tangente, utilizando la función de punto pendiente; con los datos antes calculados</p> <p style="text-align: center;">P $(-1, 1/2)$ m = 1/2</p>	$(y - y_0) = m(x - x_0)$ $(y - 1/2) = 1/2(x - (-1))$ $y = \frac{x}{2} + 1$

R// La recta tangente en el punto $x=-1$ es $\frac{x}{2} + 1$

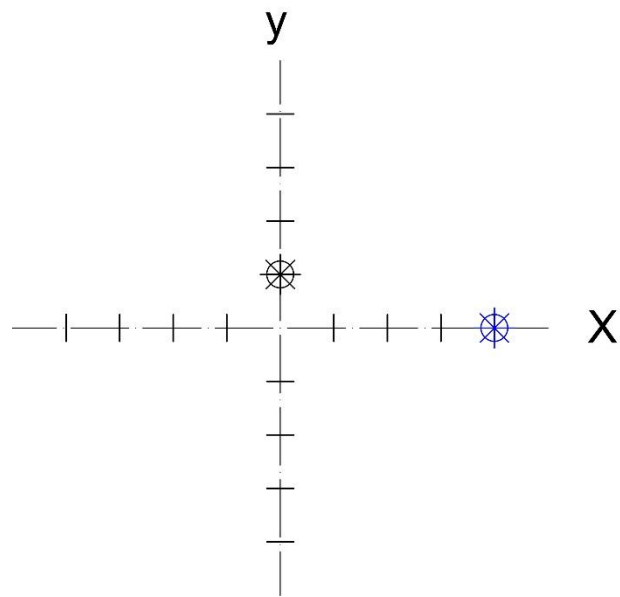
- b. Trace una gráfica de la función f que cumpla con las condiciones siguientes
 $f(0) = 1$, $f(4) = 0$, $f(6) = 0$, $\lim_{x \rightarrow 3^-} f(x) = 2$, $\lim_{x \rightarrow 3^+} f(x) = +\infty$, $\lim_{x \rightarrow -\infty} f(x) = 0$
 $\lim_{x \rightarrow +\infty} f(x) = 2$

SOLUCIÓN:

Explicación	Operatoria
<p>Realizamos la gráfica paso a paso de acuerdo a las indicaciones solicitadas, empezando con un plano en blanco:</p> 	
<p>Punto sobre el eje y.</p> <p>$f(0) = 1$</p> 	

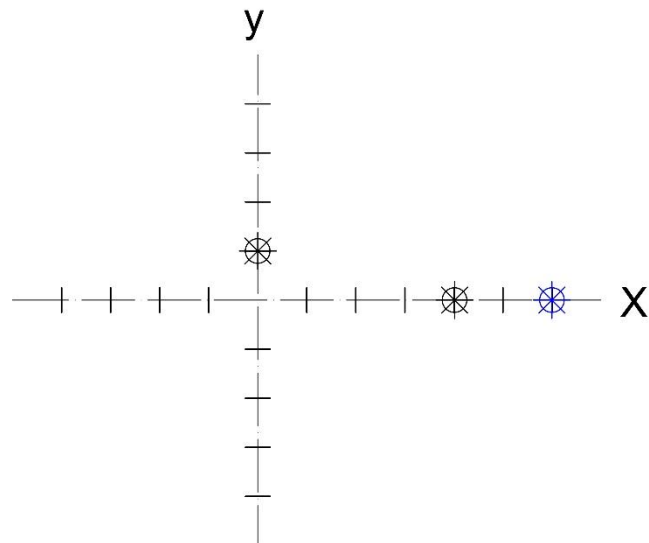
Punto sobre el eje (4,0).

$$f(4) = 0$$



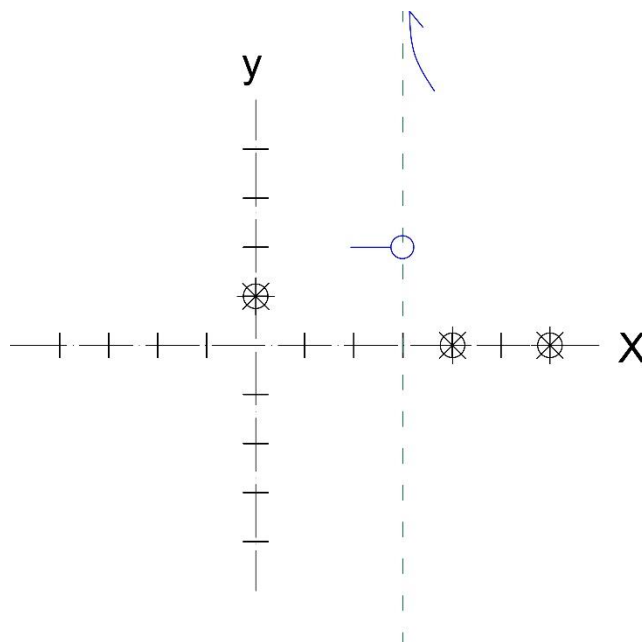
Punto sobre el eje (6,0).

$$f(6) = 0$$



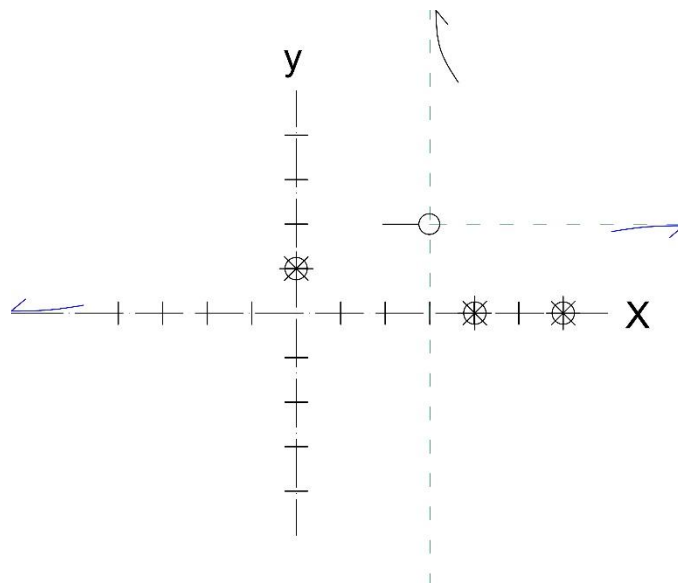
Límites para 3.

$$\lim_{x \rightarrow 3^-} f(x) = 2, \quad \lim_{x \rightarrow 3^+} f(x) = +\infty$$



Límites al infinito.

$$\lim_{x \rightarrow -\infty} f(x) = 0, \quad \lim_{x \rightarrow +\infty} f(x) = 2$$



Finalmente unimos todos los valores, identificados anteriormente.

